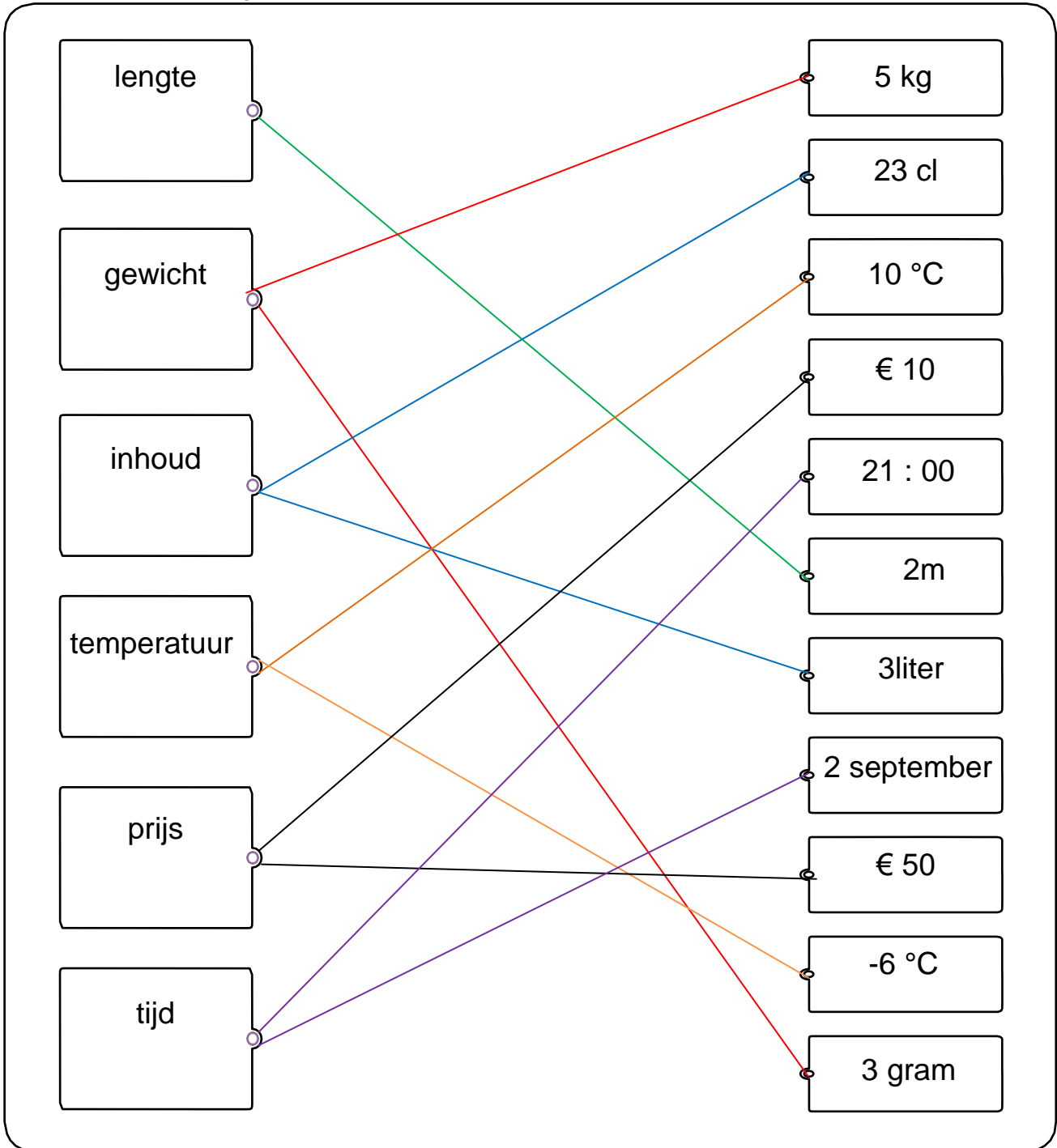


Naam: \_\_\_\_\_

Datum: \_\_\_\_\_

**WISKUNDE: METEND REKENEN** Wat meten en waarmee meten?

**1. Verbind wat bij elkaar hoort.**



**2. Schrijf het juiste woord bij elke afbeelding.**

lengte - inhoud - temperatuur - gewicht - prijs - tijd



prijs

tijd

inhoud

lengte

gewicht

3. Kleur telkens wat bij elkaar hoort.



uur      gram

liter      tijd      graden

gewicht      prijs      euro

inhoud      meter      lengte

temperatuur

4. Kijk goed. Schrijf telkens het juiste woord bij de tekening.

uur - meter - gram - euro - liter - graden




.....euro.....



.....uur.....



.....gram.....



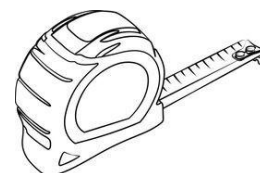
.....meter.....



.....graden...



.....liter.....



.....meter.....