

Naam: \_\_\_\_\_

Datum: \_\_\_\_\_

**WISKUNDE: METEND REKENEN** Wat meten en waarmee meten?

**1. Verbind wat bij elkaar hoort.**

lengte

gewicht

inhoud

temperatuur

prijs

tijd

5 kg

23 cl

10 °C

€ 10

21 : 00

2 m

3 liter

2 september

€ 50

-6 °C

3 gram

**2. Schrijf het juiste woord bij elke afbeelding.**

lengte - inhoud - temperatuur - gewicht - prijs - tijd



--	--	--	--	--

3. Kleur telkens wat bij elkaar hoort.



uur

gram

graden

liter

tijd

euro

gewicht

prijs

lengte

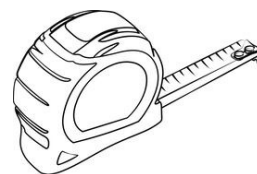
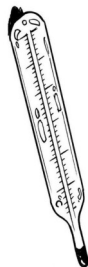

inhoud

meter

temperatuur

4. Kijk goed. Schrijf telkens het juiste woord bij de tekening.

uur - meter - gram - euro - liter - graden



© Can Stock Photo